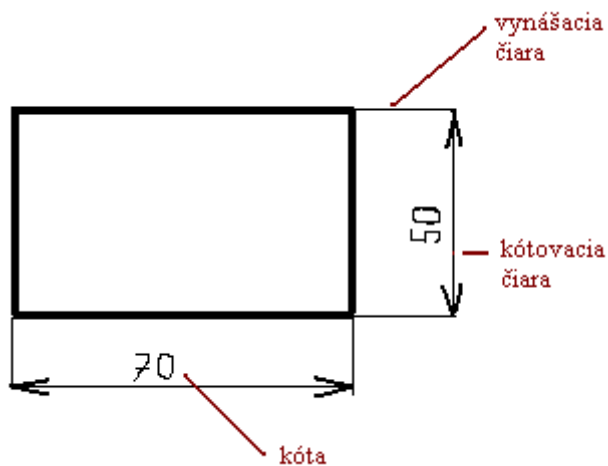
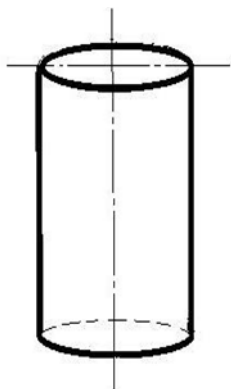


Komunikácia v technike, základy kótovania

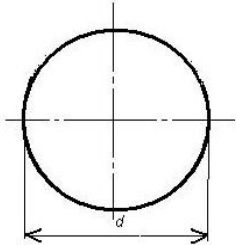
1. Na obrázku je znázornený príklad zakótovaného obdĺžnika (rozmery sú vymyslené).
Napíš v akých jednotkách sa udáva kóta v technike



2. Na obrázku je znázornený valec. Skús si predstaviť, akoby vyzeral, keby si sa naňho pozrel/a zhora a pokús sa tento pohľad nakresliť. Nezabudni, že valec je kruhového priemeru, takže musíš nakresliť aj os súmernosti!



3. Na obrázku je naznačené zakótovanie priemeru kružnice (d) tak, ako sa používa vo fyzike a matematike. Ako správne kótujeme priemer kružnice v technike? Prekresli obrázok



vedľa a správne zakótuj!