


## História technického kreslenia

 1. Odpovedz na nasledujúce otázky:

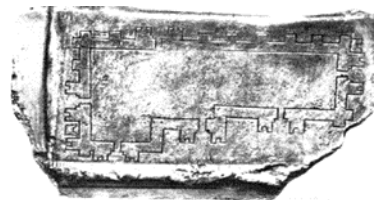
Napíš, aký je rozdiel medzi technickým výkresom a výkresom, ktorý si vytvoril na hodine výtvarnej výchovy.


.....  
.....  
.....

Môžeme považovať zobrazenie na obrázku za historický technický výkres? Správnu odpoveď zakrúžkuj.

a) áno

b) nie




 2. Usporiadaj do správneho poradia slová vyjadrujúce proces vzniku nejakého výrobku.

PROCES VÝROBY

MYŠLIENKA

VÝROBOK

 3. CAD je slovo, ktoré sa spája s počítačmi. Vysvetli, čo toto slovo znamená:

.....  
.....  
.....

Napíš aspoň 3 výhody kreslenia v grafickom programe:

.....

.....

.....

.....

.....

Vymenujte dva programy, pomocou ktorých môžeme kresliť 3D obrazy:


.....

.....

.....

.....

.....

 4. Popíš postup (proces), ktorý predchádzal vzniku výrobkov znázornených na obrázkoch.

